



ACTIVIDADES PARA AULAS HETEROGÉNEAS

PRÁCTICAS DEL LENGUAJE



★ **PINTÁ ÚNICAMENTE LAS LETRAS . LUEGO, ENTRE TODOS, ESCRIBAN LA PALABRA QUE SE FORMA.**

A	1	M	2	I	S
3	T	4	A	1	D



★ **PINTÁ LAS LETRAS Y TACHÁ LOS NÚMEROS.**

A	1	E	U	2	E
3	U	A	1	A	3



★ **DELINEÁ CON ROJO LAS LETRAS Y CON VERDE LOS NÚMEROS.**

A M 2 U 3
 1 P 8 R 4
 L U E 5 E



★ **DELINEÁ ÚNICAMENTE LAS LETRAS QUE ESTÁN EN LA POSICIÓN CORRECTA.**

A D E V U Σ L
 M 8 Γ A α P 3

★ **ENCONTRÁ EL NÚMERO ESCONDIDO Y COPIALO.**

★ ESCUCHEN Y RESUELVAN LA ADIVINANZA.



EN MI CUADERNO NUEVO
TRES PALABRAS ESCRIBÍ.
DESCUBRILAS Y PINTALAS,
¡TODAS EMPIEZAN CON "I"!

ISLA

IGLÚ

ALA

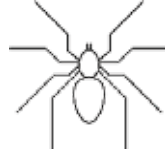

IMÁN

ESPEJO


UVA

OLLA

★ PINTÁ LOS ANIMALES CUYOS NOMBRES EMPIEZAN CON A.
TACHÁ LOS QUE EMPIEZAN CON E.




★ RODEÁ LA VOCAL INICIAL QUE CORRESPONDE AL NOMBRE DE CADA ANIMAL. PINTÁ ÚNICAMENTE EL QUE EMPIEZA CON LA LETRA I.



A E I O U A E I O U A E I O U A E I O U

★ COMPLETÁ LAS VOCALES QUE FALTAN EN CADA PALABRA Y PINTÁ LOS DOS ANIMALES QUE TERMINAN CON A.



B J

L F NT

G N

★ ESCRIBÍ EL NOMBRE DEL ANIMAL QUE FALTA.

★ UNÍ CON FLECHAS CADA ALIMENTO CON SU NOMBRE.

MIEL

PAN

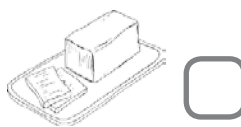
LIMÓN

SOPA

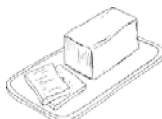


★ **ESCRIBÍ** LA LETRA INICIAL DE CADA PALABRA. **USÁ** LAS LETRAS DEL RECUADRO.

M P L S



★ **COMPLETÁ** LAS LETRAS QUE FALTAN Y **ESCRIBÍ** LA ÚLTIMA PALABRA.



P S


CHE

TECA

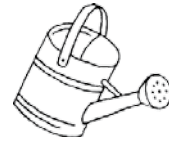
★ **ESCRIBÍ** LOS NOMBRES DE LOS INGREDIENTES QUE SE NECESITAN PARA COCINAR UN RICO PURÉ.



★ **COMPLETÁ** LAS LETRAS QUE FALTAN EN ESTAS PALABRAS QUE NOMBRAN LAS PARTES DE UNA PLANTA.



★ **UNÍ** CADA PALABRA CON SU DIBUJO.



REGADERA

FLORES

MACETA

★ **RODEÁ** LA PALABRA CORRECTA EN CADA CASO.



FLORES

TOMATE

AGUA

DURAZNO

SEMILLAS

MACETA

REGADERA

TIERRA

★ **RODEÁ** LA PALABRA CORRECTA EN CADA CASO.



FIDEOS

MACETA

TIEMPO

RAMITO

FLORES

MANTECA

TOSTADA

REGADERA

FRUTAS

MAQUETA

TIERRA

REPOSERA

★ **PENSÁ Y ESCRIBÍ** UNA PALABRA QUE COMIENZE CON CADA LETRA.




H _____ **G** _____ **J** _____

K _____ **Ñ** _____ **I** _____



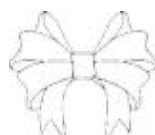
★ **COMPLETÁ** LAS LETRAS QUE FALTAN EN CADA PALABRA.



U _____ **R I** _____ **O O** _____ **A** _____ **K** _____



★ **ORDENÁ** LAS SÍLABAS Y **ESCRIBÍ** LAS PALABRAS.



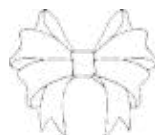
GO JU MI GA HOR ÑO MO YAK KA



★ **ESCRIBÍ** LOS NOMBRES DE ESTOS DIBUJOS USANDO LAS SÍLABAS DEL RECUADRO.



HOR JU MI GO GA ÑO KA MO YAK



★ **ESCRIBÍ** EL NOMBRE DE UN ANIMAL QUE COMIENZE CON CADA LETRA.



LETRA	B	V	Z
ANIMAL			

★ **COMPLETÁ** LAS LETRAS QUE FALTAN EN CADA PALABRA.



_____ **A** _____ **O B** _____ **O CA** _____ **A** _____ **O** _____ **C** _____

★ **RODEÁ** LAS PALABRAS EN LA SOPA DE LETRAS Y **ESCRIBILAS** DONDE CORRESPONDE.



C	A	B	A	L	L	O
Z	L	U	E	P	G	Ñ
L	C	R	V	A	C	A
V	P	R	F	H	K	R
I	W	O	Q	M	J	Z
C	H	A	N	C	H	O





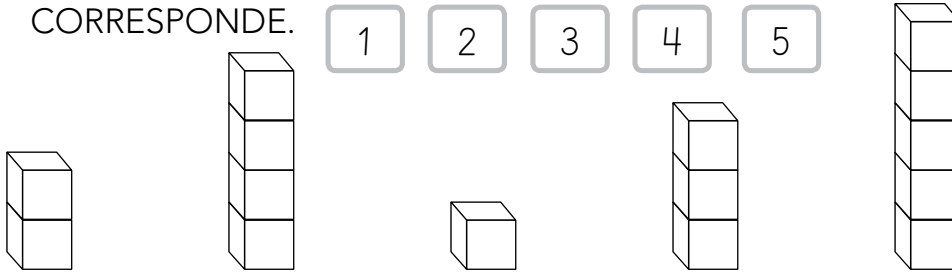
★ **LEÉ** LA ORACIÓN Y **SUBRAYÁ** LAS PALABRAS QUE NOMBRAN ANIMALES.



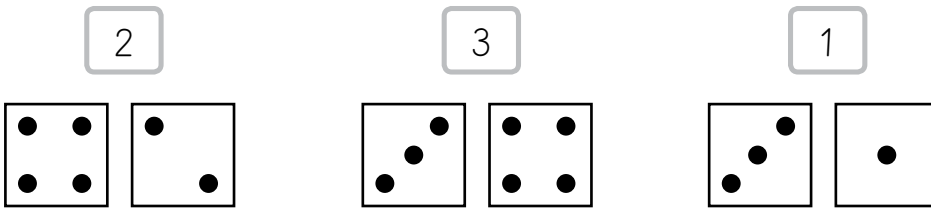
EL VETERINARIO VACUNA A LA VACA Y AL CABALLO.

★ **ESCRIBÍ** UNA ORACIÓN EN LA QUE INCLUYAS EL NOMBRE DE UN ANIMAL CUYO NOMBRE TENGA "RR".

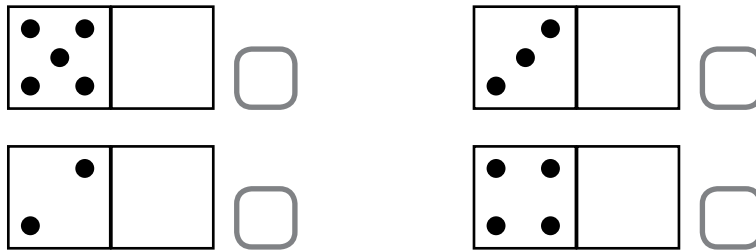
★ UNÍ CADA NÚMERO CON LA TORRE DE CUBOS QUE LE CORRESPONDE.



★ PINTÁ EL DADO QUE CORRESPONDE A CADA NÚMERO.



★ ESCRIBÍ EL NÚMERO QUE INDICA LA CANTIDAD PUNTITOS DE CADA FICHA DE DOMINÓ.



★ COMPLETÁ CADA FICHA DE DOMINÓ CON LOS NÚMEROS O PUNTITOS QUE LES FALTAN.



★ **PINTÁ** LAS CANTIDADES INDICADAS DE CADA FRUTA.

5		4	
2		6	
8			

★ **CONTÁ** LAS FRUTAS Y **ESCRIBÍ** EL NÚMERO QUE CORRESPONDE.

★ **DIBUJÁ** LA CANTIDAD DE QUE INDICA CADA CARTA.

5	3	4	6
---	---	---	---

★ **CONTÁ** CUÁNTAS FRUTAS HAY Y **DIBUJÁ** LAS QUE FALTAN PARA LLEGAR A LA CANTIDAD INDICADA EN CADA CASO.

4		7		9			8	

★ **RESOLVÉ** ESTAS SUMAS. **RODEÁ** LAS QUE DAN COMO RESULTADO 10.

$5 + 5 = \underline{\quad}$

$2 + 4 = \underline{\quad}$

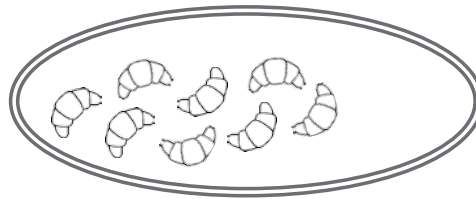
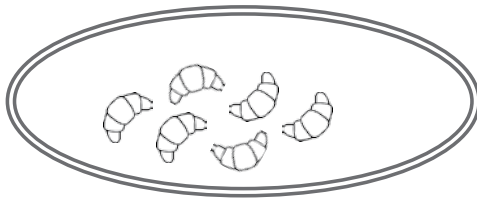
$2 + 8 = \underline{\quad}$

$7 + 2 = \underline{\quad}$

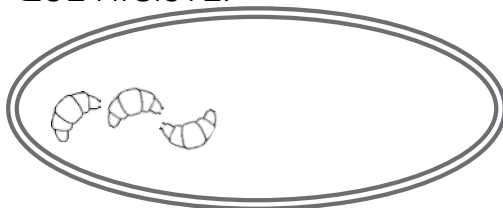
$3 + 7 = \underline{\quad}$

$5 + 3 = \underline{\quad}$

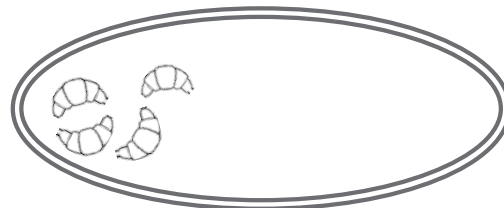
★ **DIBUJÁ** LAS MEDIALUNAS QUE FALTAN, PARA QUE HAYA DIEZ EN CADA BANDEJA.



★ **DIBUJÁ** LAS MEDIALUNAS QUE FALTAN, PARA QUE HAYA DIEZ EN CADA BANDEJA. **ESCRIBÍ** CON NÚMEROS LOS CÁLCULOS QUE HICISTE.



$\square + \square = 10$



$\square + \square = 10$

★ LUPE ANOTÓ CUÁNTAS MEDIALUNAS HAY EN CADA BANDEJA Y NECESITA SABER CUÁNTAS LE FALTAN PARA LLEGAR A 10, EN CADA CASO. **COMPLETÁ** LAS SUMAS QUE REALIZÓ.

$2 + \underline{\quad} = 10$

$3 + \underline{\quad} = 10$



$4 + \underline{\quad} = 10$

$5 + \underline{\quad} = 10$

★ **COMPLETÁ** EL CUADRO CON LOS NÚMEROS QUE FALTAN.

1	2				6	7		9	10
11		13		15			18		20
21			24			27			30

★ **ESCRIBÍ** EL POSTERIOR DE CADA NÚMERO.

3	<input type="text"/>	10	<input type="text"/>	15	<input type="text"/>
5	<input type="text"/>	12	<input type="text"/>	18	<input type="text"/>

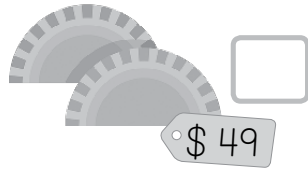

★ **ESCRIBÍ** EL ANTERIOR Y EL POSTERIOR DE CADA NÚMERO.

<input type="text"/>	8	<input type="text"/>	<input type="text"/>	16	<input type="text"/>	<input type="text"/>	25	<input type="text"/>
<input type="text"/>	13	<input type="text"/>	<input type="text"/>	22	<input type="text"/>	<input type="text"/>	28	<input type="text"/>

★ **ESCRIBÍ** LOS NÚMEROS ANTERIORES O POSTERIORES QUE FALTAN EN CADA SERIE NUMÉRICA.

9	<input type="text"/>	11	<input type="text"/>	<input type="text"/>	19	<input type="text"/>	<input type="text"/>
<input type="text"/>	<input type="text"/>	15	<input type="text"/>	<input type="text"/>	<input type="text"/>	<input type="text"/>	30


★ **ORDENÁ** ESTOS PRECIOS DE MENOR A MAYOR, NUMERÁNDOLOS DEL 1 AL 4.



★ **ESCRIBÍ** CUÁNTO DINERO TIENE CADA CHICO.



\$ _____



\$ _____



★ **DIBUJÁ** LOS BILLETES DE \$ 10 Y LAS MONEDAS DE \$ 1 QUE TIENE CADA CHICO. **PINTÁ** AL QUE TIENE MÁS DINERO.



★ **DIBUJÁ** EL DINERO QUE TIENE JULI, DE DOS MANERAS DISTINTAS. **USÁ** DISTINTOS BILLETES Y MONEDAS EN CADA CASO.



TENGO CUARENTA Y OCHO PESOS.



★ ¿CUÁNTO DINERO LE FALTA A JULI PARA TENER \$ 50? _____

★ **ESCRIBÍ** LA RESPUESTA DE CADA ADIVINANZA NUMÉRICA.

ES EL RESULTADO DE $50 + 4$.
¿DE QUÉ NÚMERO SE TRATA?

ESTÁ EN LA FAMILIA DEL 30
Y TERMINA EN 7.
¿QUÉ NÚMERO ES?



★ **RESOLVÉ** LAS SUMAS Y **PINTÁ** LOS RESULTADOS EN EL CUADRO.

0	1	2	3	4	5	6	7	8	9
10	11	12	13	14	15	16	17	18	19
20	21	22	23	24	25	26	27	28	29

$2 + 2 =$ _____ $3 + 3 =$ _____ $5 + 5 =$ _____ $8 + 8 =$ _____



★ **RESOLVÉ** LAS SUMAS Y **PINTÁ** LOS RESULTADOS EN EL CUADRO.

0	1	2	3	4	5	6	7	8	9
10	11	12	13	14	15	16	17	18	19
20	21	22	23	24	25	26	27	28	29
30	31	32	33	34	35	36	37	38	39

$12 + 1 =$ _____ $23 + 1 =$ _____ $28 + 1 =$ _____ $36 + 1 =$ _____



★ **RESOLVÉ** LAS SUMAS Y **PINTÁ** LOS RESULTADOS EN EL CUADRO.

0	1	2	3	4	5	6	7	8	9
10	11	12	13	14	15	16	17	18	19
20	21	22	23	24	25	26	27	28	29
30	31	32	33	34	35	36	37	38	39
40	41	42	43	44	45	46	47	48	49

$10 + 5 =$ _____ $20 + 7 =$ _____ $30 + 9 =$ _____ $40 + 6 =$ _____